

Образец оценочных материалов по окружающему миру
для индивидуального отбора в 5 класс МАОУ «Лицей «Звезда»

Отметь правильный ответ:

1. Что относится к неживой природе?
 - собака
 - машина
 - клён

2. Какая наука изучает связи между живыми существами и окружающей средой?
 - биология
 - психология
 - экология

3. Каким веществом является вода?
 - твердым
 - газообразным
 - жидким

4. Какое вещество имеет определённую форму?
 - твёрдое
 - жидкое
 - газообразное

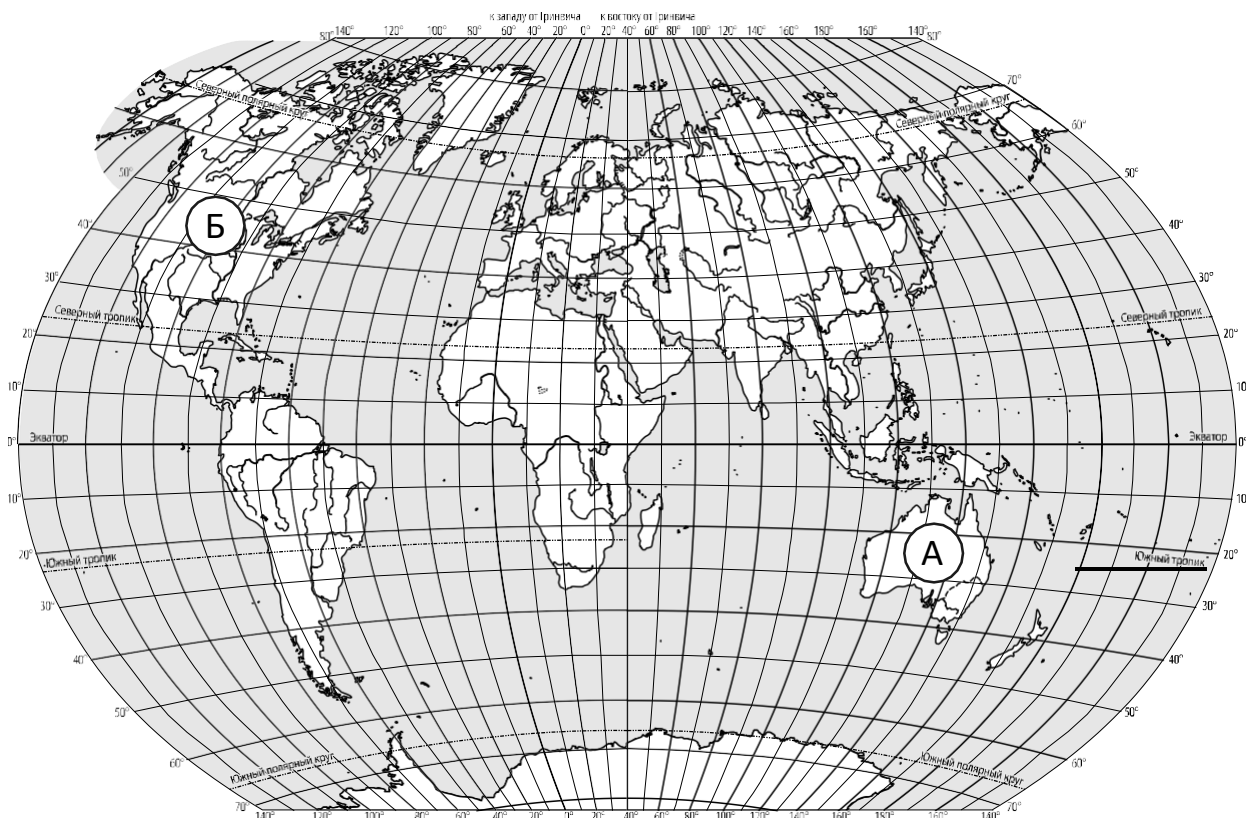
5. В каком продукте есть крахмал?
 - в яблоке
 - в моркови
 - в картофеле

6. Что человек выдыхает?
 - кислород
 - углекислый газ
 - воздух

7. Какое вещество повышает плодородие почвы?
 - перегной
 - песок
 - глина

8. Какая группа растений самая многочисленная?
 - лишайники
 - хвойные растения
 - цветковые растения

9. Рассмотрите карту мира. На ней буквами А и Б отмечены два материка.



Запиши название каждого материка в отведённое для этого поле.

Название материка А:

Название материка Б:

10. На следующей странице представлены фотографии кенгуру, пумы, эвкалипта и бизона. Запиши название каждого из этих животных и растения рядом с номером фотографии, на которой оно изображено.

- 1) _____
- 2) _____
- 3) _____
- 4) _____

11. Какие из этих животных обитают и какое растение произрастает в естественной среде (не в ботаническом саду или зоопарке) на материке А, а какие – на материке Б? Запиши **номера** фотографий с изображением этих животных и растения в таблицу под соответствующими буквами.

Материк	А	Б
Животное		




1)



2)

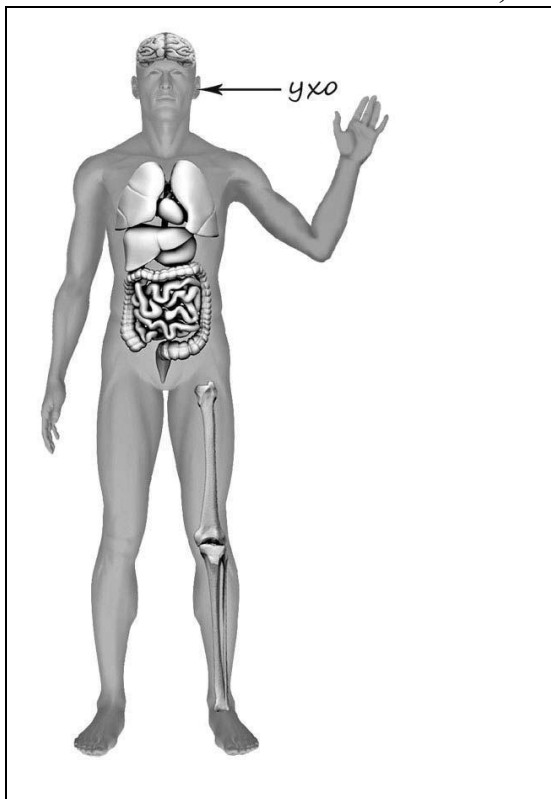


3)



4)

12. Рассмотрите изображение человека. Покажите стрелками и подпишите шею, запястье и печень человека так, как показано на примере.



13. Составьте два правила сохранения здоровья человека из приведённых частей фраз: для этого к каждой позиции первого столбца подберите соответствующую позицию из второго столбца.

Начало фразы

- А) Чтобы не переохладиться, выходя на улицу в холодную погоду,
- Б) Чтобы избежать отравления,

Продолжение фразы

- 1) Во время ходьбы передвигайся аккуратно, не спеша.
- 2) надень тёплую одежду.
- 3) Не принимай лекарства без назначения врача.

Запиши в таблицу выбранные цифры под соответствующими буквами. Ответ:

Начало фразы	А	Б
Продолжение фразы		

Критерии оценивания:

1	машина	Каждый правильный ответ оценивается в 1 балл Максимальный балл – 8
2	экология	
3	жидким	
4	твёрдое	
5	в картофеле	
6	углекислый газ	
7	перегной	
8	цветковые растения	
9	А – Австралия; Б – Северная Америка	2 балла
10	1) кенгуру; 2) бизон; 3) пума; 4) эвкалипт	4 балла
11	А (Австралия) – 14 или 41; Б (Северная Америка) – 23 или 32	2 балла
12	<p>Правильно указаны две части тела и орган с соответствующими подписями – 2 балла</p> <p>Правильно указана только одна любая часть тела и орган с соответствующими подписями.</p> <p>ИЛИ Правильно указаны только любые две части тела с соответствующими подписями – 1 балл</p> <p>Правильно указана только одна любая часть тела (орган) с соответствующей подписью.</p> <p>ИЛИ Части тела и орган указаны неправильно.</p> <p>ИЛИ Части тела и орган отмечены стрелками, но не подписаны.</p> <p>ИЛИ Части тела и орган не указаны – 0</p>	
13	23	2 балла
		Максимальный балл – 20

Перевод баллов в оценки

20-17	16-13	12-9	8-0
5	4	3	2